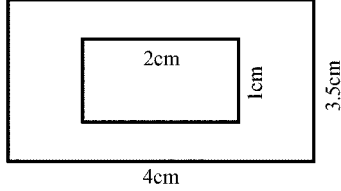


Time: 10 Minutes	Paper Math 6 (T-1)	Total Marks: 10
4th Month, 4th Week, 3rd Day	Review Exercise 8 Q # (3, 4, 5, 6)	

☆ Answer the following questions: درج ذیل سوالات کے جواب دیں۔

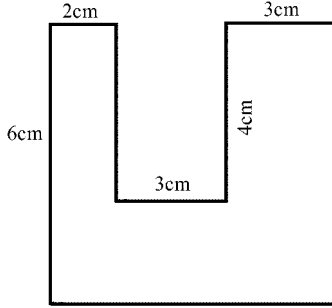
Q.1. Find the area of the shaded region. (1x2=2)

سایہ دار حصے کا رقبہ معلوم کریں۔



Q.2. Find the area and the perimeter of the given shape. (1x4=4)

دی گئی شکل کا احاطہ اور رقبہ معلوم کریں۔



Q.3. Gulzar spent Rs. 250 per square metre to pave the road in the garden.

The garden is 150m long and 9m wide and the road is 3m wide. How much money did he spend in all? (1x4=4)

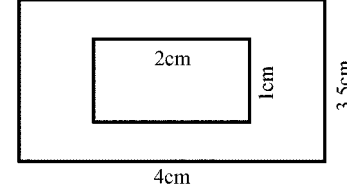
گلزار نے باغ میں موجود سڑک کو ہموار کرنے کے لیے 250 روپے فی مربع میٹر خرچ کیے۔ باغ 150 میٹر لمبا اور 9 میٹر چوڑا ہے اور سڑک 3 میٹر چوڑی ہے۔ اُس نے کل کتنی رقم خرچ کی؟

Time: 10 Minutes	Paper Math 6 (T-1)	Total Marks: 10
4th Month, 4th Week, 3rd Day	Review Exercise 8 Q # (3, 4, 5, 6)	

☆ Answer the following questions: درج ذیل سوالات کے جواب دیں۔

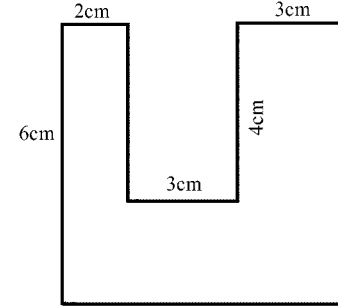
Q.1. Find the area of the shaded region. (1x2=2)

سایہ دار حصے کا رقبہ معلوم کریں۔



Q.2. Find the area and the perimeter of the given shape. (1x4=4)

دی گئی شکل کا احاطہ اور رقبہ معلوم کریں۔



Q.3. Gulzar spent Rs. 250 per square metre to pave the road in the garden.

The garden is 150m long and 9m wide and the road is 3m wide. How much money did he spend in all? (1x4=4)

گلزار نے باغ میں موجود سڑک کو ہموار کرنے کے لیے 250 روپے فی مربع میٹر خرچ کیے۔ باغ 150 میٹر لمبا اور 9 میٹر چوڑا ہے اور سڑک 3 میٹر چوڑی ہے۔ اُس نے کل کتنی رقم خرچ کی؟